

奧海盃數學競賽

《模擬試題》

小學一年級

總分：

姓名：(中)_____ (英)_____ 電話：_____

住址：_____ 就讀學校：_____









本試卷共有 24 題，全部均須作答。選擇題每題 5 分，計算題每題 3 分，简答题每題 8 分，挑戰題每題 10 分，全卷滿分 120 分。答案須寫在本卷題目的空欄內。考試時間 60 分鐘。

甲、 選擇題：以下每題的四個選項中僅有一個是正確的，請將表示正確答案選項的英文字母填寫在以下表格內(每題 5 分，共 40 分)

題號	1	2	3	4	5	6	7	8	得分
答案									

1. 媽媽給小悅 12 元，她可以買以下哪兩種東西？



- A)  和  B)  和  C)  和  D)  和 

2. 1, 3, 5, 7, 9, 11, 13, 15, 17, 19, ()。

A) 18

B) 20

C) 21

D) 31

3. 數一數，右圖有()個圓形？



A) 10

B) 9

C) 11

D) 8


4. 一隊動物排隊入場：    。從前往後數， 排第()。

A) 4

B) 3

C) 2

D) 1

5. 一輛 ，從總站開出時，車上原有 25 人。到站時，有 6 人下車及 3 人上車，現在車上有 () 人？

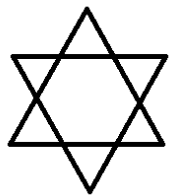
A) 22

B) 25

C) 28

D) 19

6. 右圖中有()個三角形？








A) 4

B) 6

C) 8

D) 10

7. 下列哪一幅與這幅圖完全一樣？



8. 下列算式中，結果最小的是()。

A) $8 + 6 - 4$

B) $7 + 5 + 2$

C) $6 - 2 - 1$

D) $2 + 16 - 18$

乙、 計算題：(每題 3 分，共 30 分)

9. $18 + 6 =$ _____

10. $21 - 9 =$ _____

11. $17 + 16 =$ _____

12. $33 - 15 =$ _____

13. $48 + 53 - 64 =$ _____

14. $80 - 19 - 14 =$ _____

15. $11 + 12 + 13 + 14 =$ _____

16. $99 - 15 - 18 - 21 =$ _____

17. $23 - 34 + 23 =$ _____

18. $19 + 17 + 15 - 18 - 16 =$ _____


乙部得分：

丙、 短答題：(每題 8 分，共 5 題)


19. 在4、18、27、36、27、20、31、96、99、89、101這些數中，雙數有_____個。

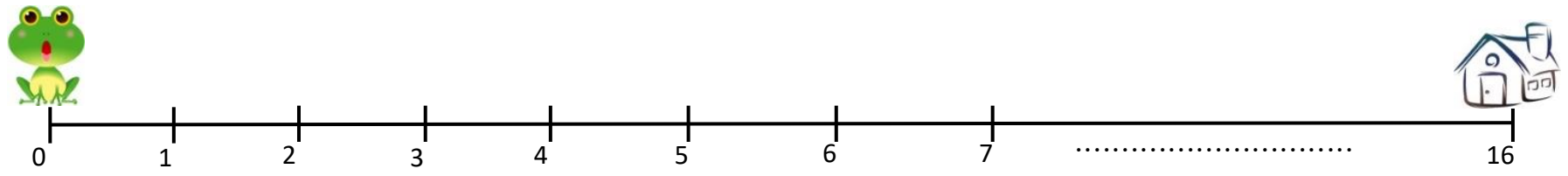
20. 按規律寫出_____中的數字

2，12，22，32，42，52，62，_____，_____，92

21. 媽媽買了12個  回來，小菲吃了一些後，剩下8個，小菲吃了_____個。



22. 鴨媽媽帶鴨仔到河裏游水，河裏有3隻鴨仔，岸上有1隻鴨仔，還有4隻鴨仔正往河裏走，共有_____隻鴨。

23.  跳 8 次就跳回家，如果每次跳的格數一樣，每次跳_____格。



丙部得分：

丁、 挑戰題：(每題 10 分，共 1 題)

24. 老師有 15 個 ，分給班中的同學，每人 2 個，還差 3 個 ，班中有_____位同學。

丁部得分：

~卷完~