

奧海盃數學競賽

《模擬試題》

幼稚園

總分：


姓名：(中) _____ (英) _____ 電話： _____


住址： _____ 就讀學校： _____

本試卷共有 24 題，全部均須作答。選擇題每題 5 分，計算題每題 3 分，简答题每題 8 分，挑戰題每題 10 分，全卷滿分 120 分。答案須寫在本卷題目的空欄內。考試時間 60 分鐘。

甲、 選擇題：以下每題的四個選項中僅有一個是正確的，請將表示正確答案選項的英文字母填寫在以下表格內(每題 5 分，共 40 分)

題號	1	2	3	4	5	6	7	8	得分
答案									

1. 數一數，算一算，下圖中  有()個。



A) 2

B) 3

C) 4

D) 5

2. 比一比，最短的是()。

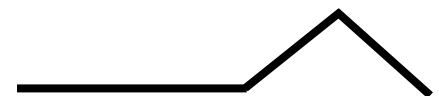
A)



B)



C)



A) A

B) B

C) C

D) D

3. 小菲有 12 粒 ，她裝滿一瓶  後仍有 3 粒，盒子裏有()粒。

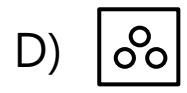
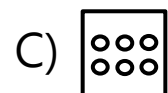
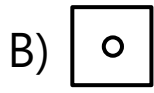
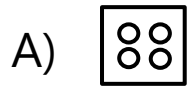
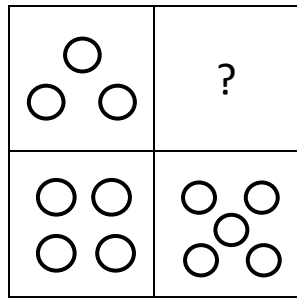
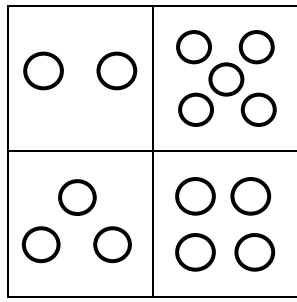
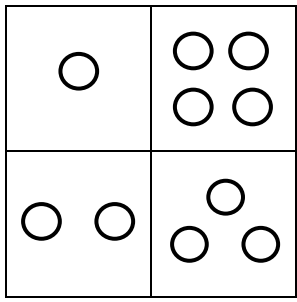
A) 8

B) 9

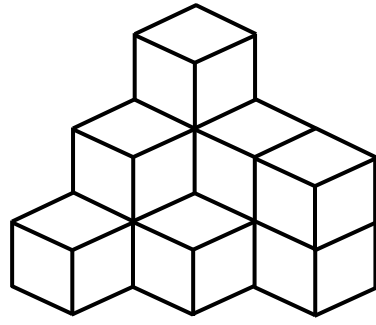
C) 10

D) 7

4. ? 中是哪個圖？



5. 以下圖中()個



A) 6

B) 7

C) 10

D) 11

6. 媽媽給弟弟 ，弟弟買 用去 ，買 用去 ，還剩下()元。

A) 3 元

B) 4 元

C) 6 元

D) 11 元

7. 以下是妹妹的 ，她送給好朋友一對後，還剩下()隻。

A) 5 隻

B) 3 隻

C) 6 隻

D) 4 隻

8.

排第三，她的後面有()人。

A) 6

B) 5

C) 2

D) 3

乙、 計算題：(每題 3 分，共 30 分)

9. $4 + 5 =$ _____

10. $8 - 3 =$ _____

11. $8 + 9 =$ _____

12. $12 - 7 =$ _____

13. $11 + 12 =$ _____

14. $25 - 13 =$ _____

15. $7 + 6 + 5 =$ _____

16. $16 - 4 - 3 =$ _____

17. $8 + 7 - 9 =$ _____

18. $17 - 9 + 4 =$ _____

乙部得分：

丙、 简答题：(每題 8 分，共 5 題)



19. 排一排，從小到大排列以下各數。

3, 14, 12, 21, 20, 8

< < < < <

20.  有 

 有 


 給  _____ 架玩具車，他們就一樣多。

21. 爸爸比小悅大 29 歲，小悅比爸爸少 _____ 歲。

22. 按規律畫圖

○●△○●○ □ ○○●△○●○ □ ○○ _____ △ _____ □ _____

23. 比一比，畫一畫，圈出正確的生果。



丙部得分：

丁、 挑戰題：(每題 10 分，共 1 題)

24. 三隻貓分吃，吃 2 條，吃 3 條，吃 1 條，還有 2 條在裏，
貓一共吃了_____條。

丁部得分：

~卷完~